

# SISTEMA DIÉDRICO ABATIMIENTOS



La nube Artística

LANUBEARTÍSTICA

www.lanubearitistica.es

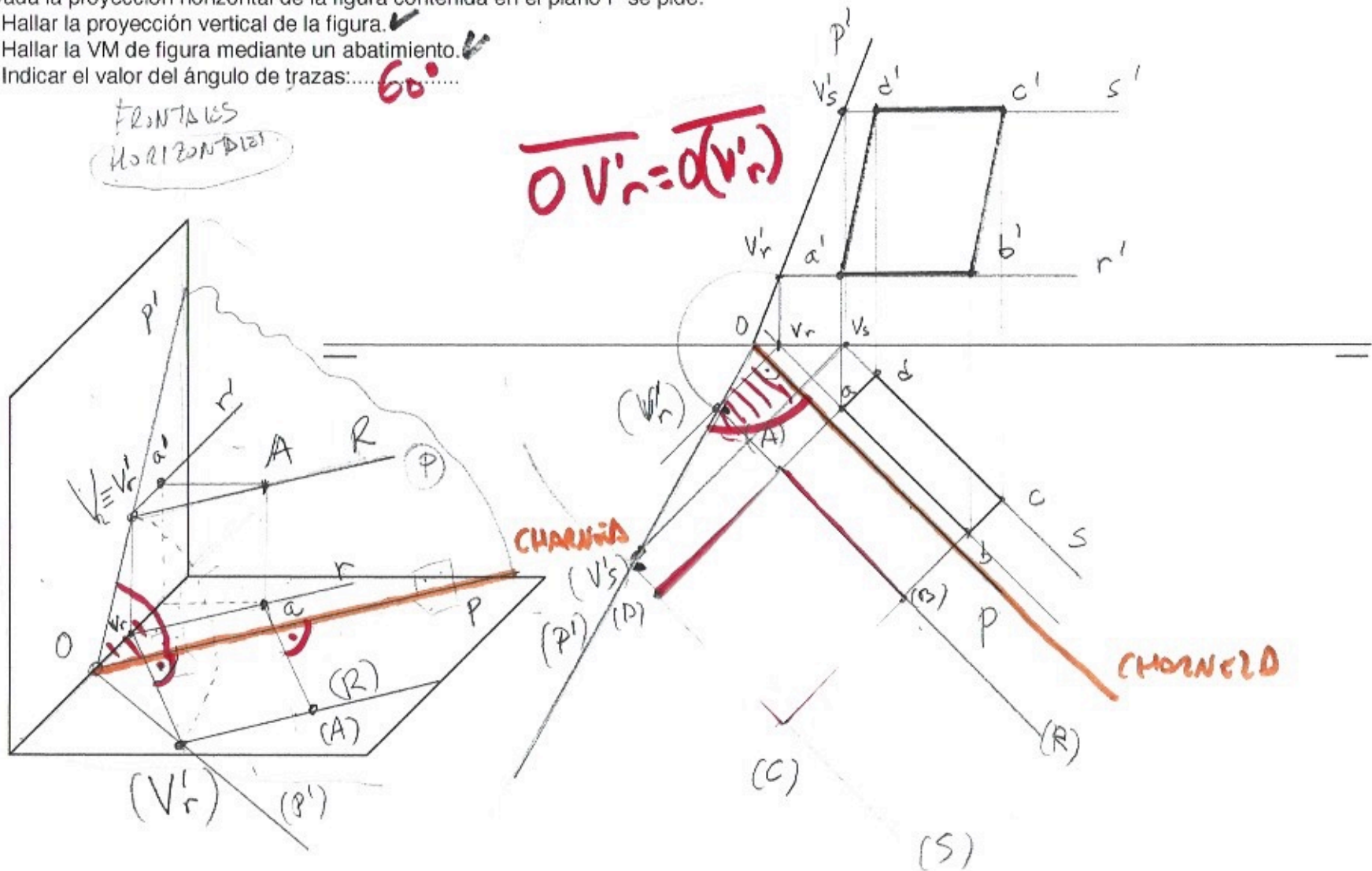
Jose María Reyes

Dada la proyección horizontal de la figura contenida en el plano P se pide:

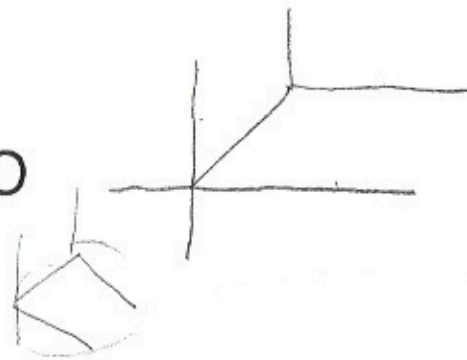
- Hallar la proyección vertical de la figura.
- Hallar la VM de figura mediante un abatimiento.
- Indicar el valor del ángulo de trazas:..... **60°**.....

FRONTALES  
HORIZONALES

$$O V'_r = O(V'_r)$$



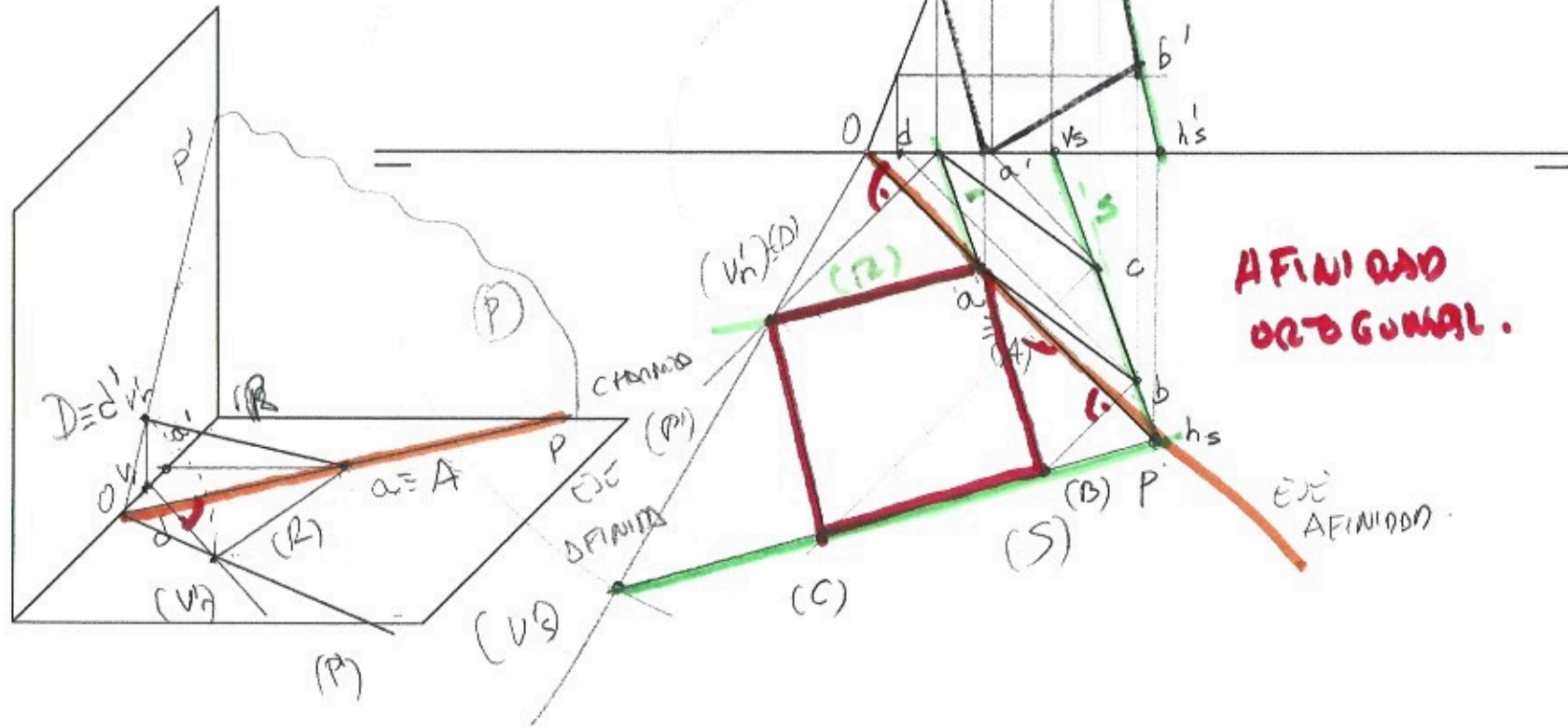
# SISTEMA DIÉDRICO ABATIMIENTOS



La nube Artística

Dada la proyección horizontal de la figura contenida en el plano P se pide:

- Hallar la proyección vertical de la figura.
- Hallar la VM de figura mediante un abatimiento.
- Indica el valor del ángulo de trazas:.....



# SISTEMA DIÉDRICO ABATIMIENTOS



La nube Artística

LANUBEARTÍSTICA

www.lanubeartistica.es

Jose Maria Reyes

Dada la proyección horizontal de la figura contenida en el plano P se pide:

- Hallar la proyección vertical de la figura. ✓
- Hallar la VM de figura mediante un abatimiento. ✓
- Indica el valor del ángulo de trazas:..... ✓

